



























 <b>1:00</b> 1 Uhr ein Uhr	 <b>2:00</b> 2 Uhr zwei Uhr	 <b>3:00</b> 3 Uhr drei Uhr	 <b>4:00</b> 4 Uhr vier Uhr	 <b>5:00</b> 5 Uhr fünf Uhr	 <b>6:00</b> 6 Uhr sechs Uhr
 <b>7:00</b> 7 Uhr sieben Uhr	 <b>8:00</b> 8 Uhr acht Uhr	 <b>9:00</b> 9 Uhr neun Uhr	 <b>10:00</b> 10 Uhr zehn Uhr	 <b>11:00</b> 11 Uhr elf Uhr	 <b>12:00</b> 12 Uhr zwölf Uhr











 5 Minuten	 10 Minuten	 15 Minuten	 20 Minuten	 25 Minuten	 30 Minuten
 35 Minuten	 40 Minuten	 45 Minuten	 50 Minuten	 65 Minuten	 60 Minuten



	1 Viertel
	eine Viertelstunde


	2 Viertel = 1 Halbes
	eine halbe Stunde

	3 Viertel
	eine Dreiviertelstunde

	4 Viertel = 1 Ganzes
	eine ganze Stunde eine Stunde

Wieviel Uhr ist es?

Wie spät ist es?



Es ist 10 Minuten nach 4  
Es ist 10 nach 4



10 Minuten

nach



4

Es ist zehn Minuten nach vier Uhr

**04:10**

Es ist zehn nach vier

Wieviel Uhr ist es?

Wie spät ist es?



Es ist 15 Minuten nach 3  
Es ist 15 nach 3  
Es ist Viertel nach 3



15 Minuten

nach



3

1 Viertel

nach

Es ist fünfzehn Minuten nach drei


Es ist fünfzehn nach drei

**03:15**

Es ist Viertel nach drei

Wieviel Uhr ist es?

Wie spät ist es?



Es ist 20 Minuten vor 8  
Es ist 20 vor 8  
Es ist 7 Uhr 40



20 Minuten

vor



8

Es ist zwanzig Minuten vor acht

Es ist zwanzig vor acht

**07:40**

Es ist sieben Uhr vierzig

Wieviel Uhr ist es?

Wie spät ist es?



Es ist 30 Minuten nach 8  
Es ist halb 9  
Es ist 8 Uhr 30



30 Minuten

nach



8

Es ist dreißig Minuten nach acht


Es ist halb neun

**08:30**

Es ist acht Uhr dreißig

Wieviel Uhr ist es?

Wie spät ist es?



Es ist 15 Minuten vor 10  
Es ist Viertel vor 10  
Es ist 9 Uhr 45



15 Minuten

vor



10

1 Viertel

vor

Es ist fünfzehn Minuten vor zehn


Es ist Viertel vor zehn

**09:45**

Es ist neun Uhr fünfundvierzig

Wieviel Uhr ist es?

Wie spät ist es?



Es ist Punkt 11 Uhr  
Es ist genau 11  
Es ist 11 Uhr



Punkt

genau



11

11

Es ist Punkt elf Uhr

Es ist genau elf

**11:00**

Es ist elf Uhr